

ERDI MAILAKO HEZIKETA ZIKLOETAN SARTZEKO PROBA. 2022

31/2022 EBAZPENA, urtarrilaren 22koa

2022-05-24

TEKNOLOGIA

1. EPAIMAHIA

KALIFIKAZIOA

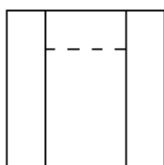
DEITURAK

IZENA

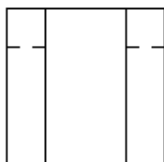
NANa/AIZ

1. Bista hauetako zein da piezaren altxaera? Erantzun zuzena aukera ezazu:..... Puntu 1

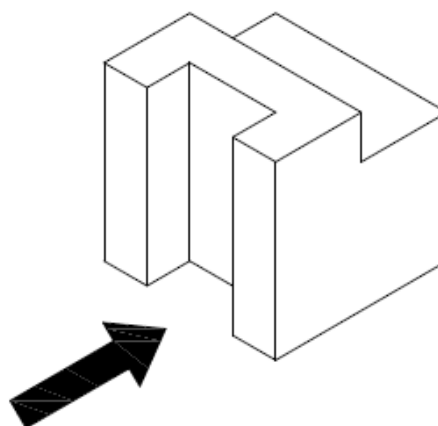
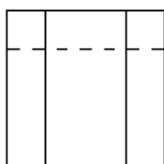
a)



b)



c)



2. Esan ezazu esaldi hauetako zein den zuzena:..... Puntu 1

a) 60 cm-ko luzera duen objektu batek, 1:20 eskalan marraztuta badago, planoan 0,3 dm neurtuko du.

b) 6 cm-ko luzera duen objektu batek, 3:1 eskalan marraztuta badago, planoan 0,18 dm neurtuko du.

c) Aurreko bi erantzunak (a eta b) gaizki daude.

ERDI MAILAKO HEZIKETA ZIKLOETAN SARTZEKO PROBA. 2022

31/2022 EBAZPENA, urtarrilaren 22koa

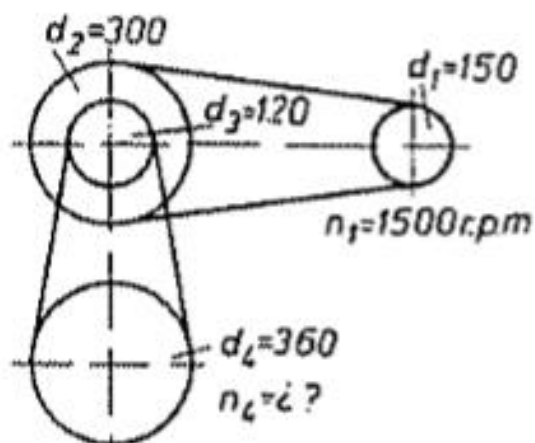
2022-05-24

TEKNOLOGIA

3. Badakigu 12 V-eko bateria batek 6 W-eko bonbilla bat elikatzen duela. Zer korrante edo intentsitate elektriko kontsumituko du bonbillak?..... Puntu 1

4.- Irudiko mekanismoa uhalen bidez elkarri loturiko lau poleak osatzen dute. Mekanismoko d_2 eta d_3 poleak bat eginda (solidarioki) biratzen dira. Irudian agertzen da polea bakoitzaren diametroa.

Kalkula ezazu d_4 polearen biraketa abiadura (b/min), jakinik d_1 poleak 1500 b/min egiten dituela..... Puntu 1



ERDI MAILAKO HEZIKETA ZIKLOETAN SARTZEKO PROBA. 2022

31/2022 EBAZPENA, urtarrilaren 22koa

2022-05-24

TEKNOLOGIA

5. Beheko 9 esaldietatik, marka itzazu 3 zuzenak.....Puntu 1

- a) Beira elastikoa eta malgua da.
- b) Altzairua gogorra da eta elektrizitatearen eroalea da.
- c) Zura harikorra eta zeharrargitsua da.
- d) Ordenagailuak sagua, teklatura eta pantaila ditu.
- e) Ordenagailuak turbina, errodamendua eta biela ditu.
- f) Ordenagailuak konpresorea, elektrodoak eta mikrometroa ditu.
- g) Testuak idazteko Internet Explorer programa erabiltzen da.
- h) Testuak idazteko Microsoft Word programa erabiltzen da.
- i) Testuak idazteko Autocad programa erabiltzen da.